

Opgave 4 – Aarde: Landschappen en klimaten in Australië

Bestudeer de bronnen 1 tot en met 3 uit het bronnenboekje die bij deze opgave horen.

Gebruik de bronnen 1 en 2 en atlaskaart 246.

Bij de plaatsen 1 tot en met 4 in bron 1 horen de foto's a tot en met d in bron 2.

- 2p **13** Noteer de cijfers 1 tot en met 4 op je antwoordblad.
Schrijf achter elk cijfer de letter van de juiste foto.

Australië ligt tussen 10° en 40° zuiderbreedte. Op deze breedte valt over het algemeen weinig neerslag.

- 2p **14** Leg met de overheersende luchtdruk op deze breedte uit dat hier weinig neerslag valt.
Je uitleg moet een oorzaak-gevolgrelatie bevatten.

Gebruik bron 3 en kaartblad 176-177.

Aan de noordoostkust van Australië kan in de periode december-maart veel neerslag vallen.

- 2p **15** Beschrijf met de dan overheersende windrichting en met een gebiedskenmerk het ontstaan van deze neerslag.

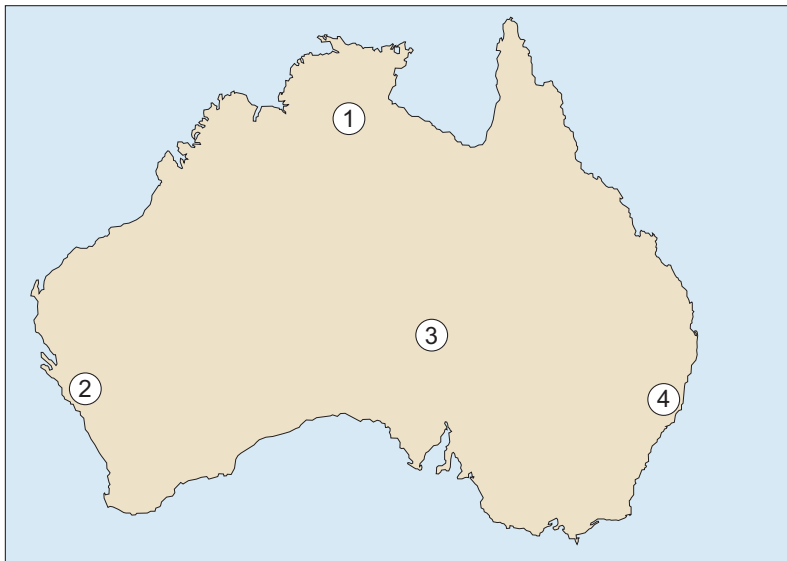
Gebruik kaartblad 238.

- 2p **16** Leg uit dat het gebergte langs de zuidoostkust van Australië minder hoog en minder spits is dan de Alpen in Europa.
Je uitleg moet een oorzaak-gevolgrelatie bevatten.

Opgave 4 – Aarde: Landschappen en klimaten in Australië

bron 1

Plaatsen waar de foto's in bron 2 zijn genomen



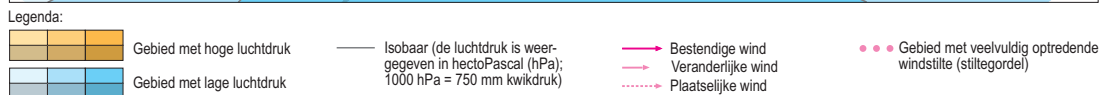
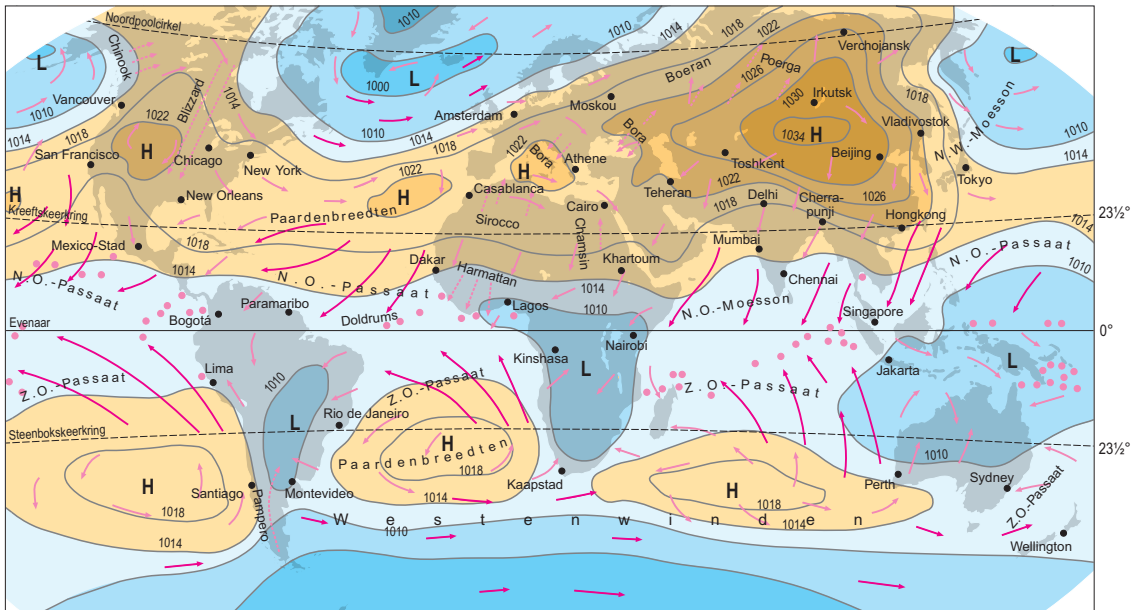
bron 2

Foto's van vier plaatsen in Australië

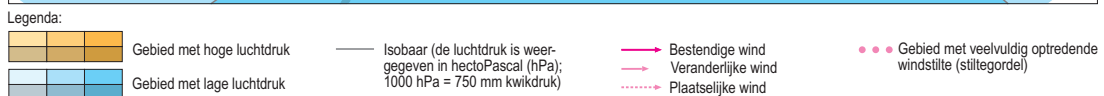
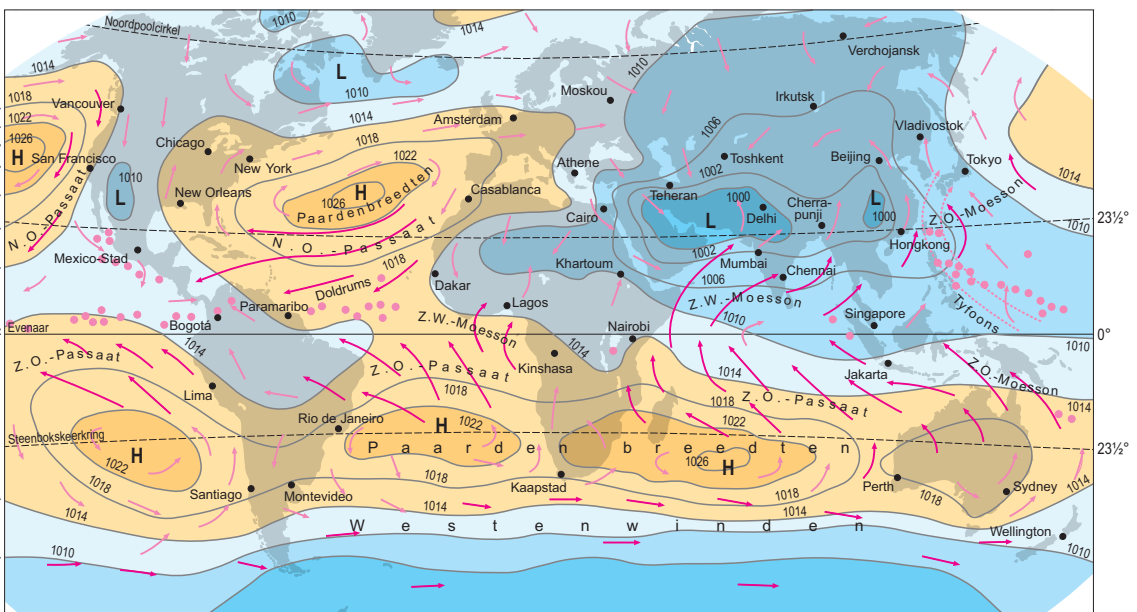


bron 3

Luchtdruk en winden in januari



Luchtdruk en winden in juli



Bronvermelding

Een opsomming van de in dit examen gebruikte bronnen, zoals teksten en afbeeldingen, is te vinden in het bij dit examen behorende correctievoorschrift, dat na afloop van het examen wordt gepubliceerd.